

National Testing Agency

Question Paper Name: 46 Adult Education 20th Dec S2 Set 2
Subject Name: 46 Adult Education
Creation Date: 2018-12-20 23:01:35
Duration: 180
Total Marks: 300
Display Marks: Yes
Share Answer Key With Delivery Engine: Yes
Actual Answer Key: Yes

Paper I

Group Number : 1
Group Id : 913943275
Group Maximum Duration : 60
Group Minimum Duration : 60
Revisit allowed for view? : No
Revisit allowed for edit? : No
Break time: 30
Mandatory Break time: Yes
Group Marks: 100

00 General Aptitude

Section Id : 913943275
Section Number : 1
Section type : Online
Mandatory or Optional: Mandatory
Number of Questions: 44
Number of Questions to be attempted: 44
Section Marks: 100
Display Number Panel: Yes
Group All Questions: No

Sub-Section Number: 1
Sub-Section Id: 9139431103
Question Shuffling Allowed : Yes

Question Number : 1 Question Id : 91394320923 Question Type : MCQ Option Shuffling : Yes Display Question Number : Yes
Single Line Question Option : No Option Orientation : Vertical

Correct Marks : 2 Wrong Marks : 0

Which of the following indicates the concept of Zone of Proximal Development (ZPD) as suggested by psychologist Lev Vygotsky ?

Options :

91394382201. A learner's brain develops faster in childhood.

91394382202. A learner learns effectively when it is supported with real life examples.

91394382203. What a learner can do with help and without help.

91394382204. Friends interaction is very important for proper development of child.

Question Number : 1 Question Id : 91394320923 Question Type : MCQ Option Shuffling : Yes Display Question Number : Yes
Single Line Question Option : No Option Orientation : Vertical

Correct Marks : 2 Wrong Marks : 0

मनोवैज्ञानिक लेव वाइगोट्स्की द्वारा सुझाई गई ज़ोन ऑफ प्राक्सिमल डेवलपमेंट (ज़ेड पी डी) अवधारणा निम्नांकित में से क्या प्रदर्शित करती है?

Options :

91394382201. एक शिक्षार्थी का मस्तिष्क बाल्यावस्था में तेजी से विकसित होता है।

91394382202. एक शिक्षार्थी प्रभावी ढंग से सीखता है यदि उसे वास्तविक उदाहरणों के साथ सिखाया जाये।

91394382203. इससे यह प्रदर्शित होता है कि एक शिक्षार्थी सहायता के साथ और सहायता के बगैर भी सीख सकता है।

91394382204. बच्चे के समुचित विकास के लिए मित्रों का दायरा बहुत महत्वपूर्ण है।

Question Number : 2 Question Id : 91394320924 Question Type : MCQ Option Shuffling : Yes Display Question Number : Yes
Single Line Question Option : No Option Orientation : Vertical

Correct Marks : 2 Wrong Marks : 0

Which among the following is the correct set of four fundamental principles of Rabindranath Tagore's educational philosophy ?

Options :

91394382205. Humanism, Commercialisation, Urbanisation, Hinduism

91394382206. Naturalism, Humanism, Internationalism, Idealism

91394382207. Globalisation, Localisation, Transformation, Capitalism

91394382208. Socialism, Spiritualism, Tourism, Commercialism

Question Number : 2 Question Id : 91394320924 Question Type : MCQ Option Shuffling : Yes Display Question Number : Yes
Single Line Question Option : No Option Orientation : Vertical

Correct Marks : 2 Wrong Marks : 0

निम्नलिखित में से कौन-सा विकल्प रबींद्रनाथ टैगोर के शैक्षिक दर्शन के चार मौलिक सिद्धांतों का सही सेट है?

Options :

91394382205. मानवतावाद, व्यावसायीकरण, शहरीकरण, हिंदूवाद

91394382206. प्रकृतिवाद, मानवतावाद, अंतर्राष्ट्रीयता, आदर्शवाद

91394382207. वैश्वीकरण, स्थानीयकरण, परिवर्तन, पूँजीवाद

91394382208. समाजवाद, अध्यात्मवाद, पर्यटन, व्यावसायिकता

Question Number : 3 Question Id : 91394320925 Question Type : MCQ Option Shuffling : Yes Display Question Number : Yes
Single Line Question Option : No Option Orientation : Vertical

Correct Marks : 2 Wrong Marks : 0

The field of study of the theory and practice of self-determined learning that focuses on the importance of knowing how to learn is known as :

Options :

91394382209. Epistemology

91394382210. Andragogy

91394382211. Pedagogy

91394382212. Heutagogy

Question Number : 3 Question Id : 91394320925 Question Type : MCQ Option Shuffling : Yes Display Question Number : Yes
Single Line Question Option : No Option Orientation : Vertical

Correct Marks : 2 Wrong Marks : 0

अधिगम कैसे किया जाये की महत्ता पर ध्यान केंद्रित करने वाले स्व-निर्धारित अधिगम के व्यवहार और सिद्धांत के अध्ययन क्षेत्र को क्या कहा जाता है?

Options :

91394382209. ज्ञानमीमांसा

91394382210. प्रौढ़शिक्षा प्रणाली

91394382211. शिक्षाशास्त्र

91394382212. आत्म-अधिगम

Question Number : 4 Question Id : 91394320926 Question Type : MCQ Option Shuffling : Yes Display Question Number : Yes
Single Line Question Option : No Option Orientation : Vertical

Correct Marks : 2 Wrong Marks : 0

The construction of thought process, which includes remembering, problem solving and decision making, is called as :

Options :

91394382213. Andragogy

91394382214. Psychology

91394382215. Pedagogy

91394382216. Cognitive development

Question Number : 4 Question Id : 91394320926 Question Type : MCQ Option Shuffling : Yes Display Question Number : Yes
Single Line Question Option : No Option Orientation : Vertical

Correct Marks : 2 Wrong Marks : 0

विचार प्रक्रिया की संरचना का अध्ययन जिसमें स्मरण, समस्या समाधान और निर्णय लेना शामिल होता है, क्या कहलाता है?

Options :

91394382213. एंड्रगॉगी (प्रौढ़शिक्षा प्रणाली)

91394382214. मनोविज्ञान

91394382215. पेडागॉगी (शिक्षाशास्त्र)

91394382216. संज्ञानात्मक विकास

Question Number : 5 Question Id : 91394320927 Question Type : MCQ Option Shuffling : Yes Display Question Number : Yes
Single Line Question Option : No Option Orientation : Vertical

Correct Marks : 2 Wrong Marks : 0

The field of study dealing with methods and principles used in adult education is known as :

Options :

91394382217. Pedagogy

91394382218. Andragogy

91394382219. Anthropology

91394382220. Gerontology

Question Number : 5 Question Id : 91394320927 Question Type : MCQ Option Shuffling : Yes Display Question Number : Yes
Single Line Question Option : No Option Orientation : Vertical

Correct Marks : 2 Wrong Marks : 0

प्रौढ़ शिक्षा में प्रयुक्त विधियों और सिद्धांतों से संबंधित अध्ययन क्षेत्र क्या कहलाता है ?

Options :

91394382217. पेडागॉगी (शिक्षाशास्त्र)

91394382218. एंड्रागॉगी (प्रौढ़शिक्षा प्रणाली)

91394382219. एंथ्रोपोलॉजी (नृविज्ञान)

91394382220. जेरेंटोलॉजी (जरा-विज्ञान)

Question Number : 6 Question Id : 91394320928 Question Type : MCQ Option Shuffling : Yes Display Question Number : Yes
Single Line Question Option : No Option Orientation : Vertical

Correct Marks : 2 Wrong Marks : 0

The four approaches to knowing answers to research questions, according to Kerlinger, are :

- (a) Method of tenacity
- (b) Method of intuition
- (c) Method of authority
- (d) Method of science
- (e) Method of creativity
- (f) Method of non-functionality

Code :

Options :

91394382221. (a), (b), (c) and (d)

91394382222. (b), (c), (d) and (e)

91394382223. (b), (d), (e) and (f)

91394382224. (c), (d), (e) and (f)

Question Number : 6 Question Id : 91394320928 Question Type : MCQ Option Shuffling : Yes Display Question Number : Yes
Single Line Question Option : No Option Orientation : Vertical

Correct Marks : 2 Wrong Marks : 0

कर्लिंगर के अनुसार शोधपरक प्रश्नों के उत्तर ज्ञात करने के चार उपागम हैं :

- (a) दृढ़ता विधि
- (b) अन्तर्ज्ञान विधि
- (c) प्राधिकार विधि
- (d) विज्ञान विधि
- (e) सृजनात्मकता विधि
- (f) अ-प्रकार्यात्मकता विधि

कूट :

Options :

91394382221. (a), (b), (c) और (d)

91394382222. (b), (c), (d) और (e)

91394382223. (b), (d), (e) और (f)

91394382224. (c), (d), (e) और (f)

Question Number : 7 Question Id : 91394320929 Question Type : MCQ Option Shuffling : Yes Display Question Number : Yes
Single Line Question Option : No Option Orientation : Vertical

Correct Marks : 2 Wrong Marks : 0

One way to measure the extent to which a measure is free of random error is to compute its :

Options :

91394382225. Content validity

91394382226. Experimenter's bias

91394382227. Test-retest reliability

91394382228. Demand characteristics

Question Number : 7 Question Id : 91394320929 Question Type : MCQ Option Shuffling : Yes Display Question Number : Yes
Single Line Question Option : No Option Orientation : Vertical

Correct Marks : 2 Wrong Marks : 0

कोई माप किस सीमा तक यादृच्छिक त्रुटि से मुक्त है, इसके मापन की एक विधि में निम्नलिखित में से किसका परिकलन किया जाता है?

Options :

91394382225. विषय-वस्तु वैधता

91394382226. प्रयोगकर्ता की पूर्वधारणा

91394382227. परीक्षण-पुनःपरीक्षण विश्वसनीयता

91394382228. माँग अभिलक्षण

Question Number : 8 Question Id : 91394320930 Question Type : MCQ Option Shuffling : Yes Display Question Number : Yes
Single Line Question Option : No Option Orientation : Vertical

Correct Marks : 2 Wrong Marks : 0

Qualitative researchers criticise quantitative research for its tendency towards :

Options :

91394382229. Emphasis on evidence

91394382230. Focus on empiricism

91394382231. Reductionism

91394382232. Obsession with creativity

Question Number : 8 Question Id : 91394320930 Question Type : MCQ Option Shuffling : Yes Display Question Number : Yes
Single Line Question Option : No Option Orientation : Vertical

Correct Marks : 2 Wrong Marks : 0

गुणात्मक शोधकर्ता _____ की ओर मात्रात्मक शोध की प्रवृत्ति के कारण उसकी निंदा करते हैं।

Options :

91394382229. साक्ष्य पर जोर

91394382230. अनुभववाद पर जोर

91394382231. ह्यसवाद

91394382232. सृजनात्मकता के प्रति अत्यधिक अनुरक्ति

Question Number : 9 Question Id : 91394320931 Question Type : MCQ Option Shuffling : Yes Display Question Number : Yes
Single Line Question Option : No Option Orientation : Vertical

Correct Marks : 2 Wrong Marks : 0

Which method is appropriate to reduce random error ?

Options :

91394382233. Select large sample size

91394382234. Administer the test after a gap of one week

91394382235. Administer the treatment in the same way every time

91394382236. Administer manipulation checks

Question Number : 9 Question Id : 91394320931 Question Type : MCQ Option Shuffling : Yes Display Question Number : Yes
Single Line Question Option : No Option Orientation : Vertical

Correct Marks : 2 Wrong Marks : 0

यादृच्छिक त्रुटि को कम करने के लिए निम्नलिखित में से कौन सी विधि उपयुक्त है ?

Options :

91394382233. दीर्घ निदर्श आकार का चयन

91394382234. एक सप्ताह के समयांतराल के पश्चात् परीक्षण करना

91394382235. हर बार एक समान रूप से उपचार करना

91394382236. कार्य साधन जाँच करना

Question Number : 10 Question Id : 91394320932 Question Type : MCQ Option Shuffling : Yes Display Question Number : Yes
Single Line Question Option : No Option Orientation : Vertical

Correct Marks : 2 Wrong Marks : 0

In relation to code of conduct in research, what does APA stand for ?

Options :

91394382237. Advanced Psychological Authority

91394382238. American Psychological Association

91394382239. Australian Psychological Association

91394382240. Association of Psychological Assessments

Question Number : 10 Question Id : 91394320932 Question Type : MCQ Option Shuffling : Yes Display Question Number : Yes
Single Line Question Option : No Option Orientation : Vertical

Correct Marks : 2 Wrong Marks : 0

शोध में आचार-संहिता के संदर्भ में APA से अभिप्राय है :

Options :

91394382237. एडवांस्ड साइकोलोजिकल ऑथरिटी

91394382238. अमेरिकन साइकोलोजिकल एसोसिएशन

91394382239. ऑस्ट्रेलियन साइकोलोजिकल एसोसिएशन

91394382240. एसोसिएशन ऑफ साइकोलोजिकल असेसमेंट्स

Sub-Section Number: 2
Sub-Section Id: 9139431104
Question Shuffling Allowed : Yes

Question Id : 91394320933 Question Type : COMPREHENSION Sub Question Shuffling Allowed : Yes Group Comprehension Questions : No

Question Numbers : (11 to 15)

Question Label : Comprehension

Read the following passage carefully and answer questions 11 to 15.

For all the disagreement in the industry about the future of aviation, there is perfect accord on one point : There is going to be a lot more of it. The world's air passengers flew a combined 7.64 trillion kilometers in 2017. By 2037, that will rise to 18.97 trillion kilometers, with about 40% of the increase happening within five intra-regional markets : China, India, North-America, Europe and South-east Asia. That is sparking a battle over the biggest bottleneck holding back this growth : airports. The governments that still own many of them should be more open to privatisation to cover a \$ 78 billion funding gap in needed capital investments. Airlines, airports' biggest customers, see things differently. Costs at privatised terminals are higher and governments should be cautious about such actions in the interests of expanding the aviation sector as a whole. Privatising an airport does not necessarily make it more efficient. A study has found there was little difference between the performance of airports 100% owned by commercially-oriented government corporations and those majority controlled by private businesses. The key is instead to avoid structures where the incentives for managers are confused or misaligned, such as where private companies are brought in as minority investors or where managers are essentially bureaucrats swayed by political imperatives. There is a better solution out there, but it is not likely to be very attractive to incumbent airlines, airports, or passengers enamoured of the current generation of gleaming terminals : build more, cheaper airports.

Sub questions

Question Number : 11 Question Id : 91394320934 Question Type : MCQ Option Shuffling : Yes Display Question Number : Yes Single Line Question Option : No Option Orientation : Vertical

Correct Marks : 2 Wrong Marks : 0

What is the growth rate in aviation apart from the five intra-regional markets ?

Options :

91394382241. 10 percent

91394382242. 20 percent

91394382243. 30 percent

91394382244. 40 percent

Question Number : 12 Question Id : 91394320935 Question Type : MCQ Option Shuffling : Yes Display Question Number : Yes
Single Line Question Option : No Option Orientation : Vertical

Correct Marks : 2 Wrong Marks : 0

Why should the governments be open to privatisation of airports ?

Options :

91394382245. Because they own many airports

91394382246. Because there is a battle for growth

91394382247. For necessary capital

91394382248. To limit the government control of aviation industry

Question Number : 13 Question Id : 91394320936 Question Type : MCQ Option Shuffling : Yes Display Question Number : Yes
Single Line Question Option : No Option Orientation : Vertical

Correct Marks : 2 Wrong Marks : 0

How do airlines see the move for privatisation of airports ?

- (a) Feel that costs are high
- (b) Governments should be cautious
- (c) Interest of the aviation sector is important
- (d) It decentralises the authority to control

Code :

Options :

91394382249. (a), (b) and (c)

91394382250. (b), (c) and (d)

91394382251. (c), (d) and (a)

91394382252. (d), (a) and (b)

Question Number : 14 Question Id : 91394320937 Question Type : MCQ Option Shuffling : Yes Display Question Number : Yes
Single Line Question Option : No Option Orientation : Vertical

Correct Marks : 2 Wrong Marks : 0

What is the key for making airports function efficiently ?

Options :

91394382253. Make private companies as minority shareholders.

91394382254. Provide misaligned incentives to managers.

91394382255. Recognise political imperatives of bureaucrats appointed as managers.

91394382256. Avoid structures of confused incentives to managers.

Question Number : 15 Question Id : 91394320938 Question Type : MCQ Option Shuffling : Yes Display Question Number : Yes
Single Line Question Option : No Option Orientation : Vertical

Correct Marks : 2 Wrong Marks : 0

Which of the following is the focal inference of the author in the passage ?

Options :

91394382257. Private ownership of airports does not mean efficient management.

91394382258. Growth of the aviation industry is distorted.

91394382259. Airports are not an obstacle to the growth of aviation industry.

91394382260. Government-owned airports are known for high performance.

Question Id : 91394320933 Question Type : COMPREHENSION Sub Question Shuffling Allowed : Yes Group Comprehension
Questions : No

Question Numbers : (11 to 15)

Question Label : Comprehension

निम्नलिखित परिच्छेद को सावधानी पूर्वक पढ़ें और प्रश्न संख्या 11 से 15 के उत्तर दें।

उड़डयन के भविष्य के बारे में उद्योग जगत में विद्यमान मतभेदों के बीच एक बिन्दु पर सभी की पूर्ण सहमति है कि इसमें अभी बहुत कुछ किया जाना शेष है। विश्व भर के विमान यात्रियों ने 2017 में संयुक्त रूप से 7.64 ट्रिलियन किलोमीटर की यात्रा पूरी की है। 2037 तक यह बढ़कर 18.97 ट्रिलियन किलोमीटर हो जाएगी; जिसमें से लगभग 40% वृद्धि पाँच अंतरा-क्षेत्रीय बाजारों यथा : चीन, भारत, उत्तरी-अमेरिका, यूरोप तथा दक्षिणपूर्व एशिया में ही हो जाएगी। इस क्षेत्र की वृद्धि में सबसे बड़ा अवरोध है विमानपत्तनों की कमी। हालांकि उनमें से अनेक विमानपत्तन सरकार के स्वामित्व वाले हैं तथापि वांछित पूंजी निवेश में 78 बिलियन डॉलर के निधियन के अंतर को पाटने के लिए इस क्षेत्र को निजी क्षेत्र के लिए खोला जाना चाहिए। एयरलाइन, जो कि विमानपत्तन के सबसे बड़े ग्राहक हैं, वे इसे अलग तरीके से देखते हैं। निजी टर्मिनलों पर आने वाली लागत तुलनात्मक रूप से अधिक है और उड़डयन क्षेत्र का विस्तार करने के हित में सरकार को ऐसी कार्रवाईयों के संबंध में सजग रहना चाहिए। आवश्यक नहीं है कि किसी विमानपत्तन का निजीकरण उसे और अधिक कुशल बनाए। एक अध्ययन में पाया गया है कि वाणिज्यिक उन्मुखी सरकार की 100% हिस्सेदारी वाले विमानपत्तन निगमों तथा निजी व्यवसायियों द्वारा प्रमुखता से नियंत्रित विमानपत्तनों के कार्य-निष्पादन के बीच बहुत ही कम अंतर पाया गया। महत्वपूर्ण बात यह है कि ऐसी संरचना जहाँ प्रबंधकों के लिए प्रोत्साहन भ्रांतिपूर्ण अथवा असुरेखित हैं, जिस प्रकार से लघु निवेशकों के रूप में निजी कंपनियों को लाया गया है या जहाँ प्रबंधक अनिवार्यतः नौकरशाह हैं जो राजनैतिक आदेश से प्रभावित हैं, बचना होगा। इसके लिए एक बेहतर समाधान है परंतु यह संभावना है कि यह पदस्थ एयरलाइन, विमानपत्तन और चमक धमक वाले टर्मिनलों वाली वर्तमान पीढ़ी के अनुरक्त यात्रियों के लिए ज्यादा एवं सस्ते विमानपत्तनों का निर्माण करना बेहद आकर्षक नहीं होगा।

Sub questions

Question Number : 11 Question Id : 91394320934 Question Type : MCQ Option Shuffling : Yes Display Question Number : Yes Single Line Question Option : No Option Orientation : Vertical

Correct Marks : 2 Wrong Marks : 0

पाँच अंतरा-क्षेत्रीय बाजारों के अतिरिक्त उड़डयन क्षेत्र की विकास दर क्या है?

Options :

91394382241. 10 प्रतिशत

91394382242. 20 प्रतिशत

91394382243. 30 प्रतिशत

91394382244. 40 प्रतिशत

Question Number : 12 Question Id : 91394320935 Question Type : MCQ Option Shuffling : Yes Display Question Number : Yes Single Line Question Option : No Option Orientation : Vertical

Correct Marks : 2 Wrong Marks : 0

सरकार को विमानपत्तनों के निजीकरण की स्वतंत्रता क्यों देनी चाहिए?

Options :

91394382245. क्योंकि उनके स्वामित्व वाले कई विमानपत्तन हैं

91394382246. क्योंकि वृद्धि के लिए लड़ाई चलती रहती है

91394382247.

आवश्यक पूँजी के लिए

91394382248.

उड्डयन उद्योग में सरकारी नियंत्रण कम करने के लिए

Question Number : 13 Question Id : 91394320936 Question Type : MCQ Option Shuffling : Yes Display Question Number : Yes
Single Line Question Option : No Option Orientation : Vertical

Correct Marks : 2 Wrong Marks : 0

एयरलाइन विमानपत्तनों के निजीकरण को किस प्रकार देखती है?

- (a) यह महसूस करती है कि लागत अधिक है
- (b) सरकार को सजग रहना चाहिए
- (c) उड्डयन क्षेत्र का हित महत्वपूर्ण है
- (d) यह नियंत्रण के प्राधिकार को विकेंद्रित करता है

कूट :

Options :

91394382249. (a), (b) और (c)

91394382250. (b), (c) और (d)

91394382251. (c), (d) और (a)

91394382252. (d), (a) और (b)

Question Number : 14 Question Id : 91394320937 Question Type : MCQ Option Shuffling : Yes Display Question Number : Yes
Single Line Question Option : No Option Orientation : Vertical

Correct Marks : 2 Wrong Marks : 0

विमानपत्तन के प्रकार्य को कुशल बनाने के लिए क्या महत्वपूर्ण है?

Options :

91394382253. निजी कंपनियों को लघु पणधारक बनाना।

91394382254. प्रबंधकों को असंखित प्रोत्साहन मुहैया कराना।

91394382255. प्रबंधकों के रूप में नियुक्त नौकरशाहों के राजनैतिक आदेश को मान्यता प्रदान करना।

91394382256. प्रबंधकों को भ्रांतिपूर्ण प्रोत्साहनों की संरचना की अनदेखी करना।

Question Number : 15 Question Id : 91394320938 Question Type : MCQ Option Shuffling : Yes Display Question Number : Yes
Single Line Question Option : No Option Orientation : Vertical

Correct Marks : 2 Wrong Marks : 0

परिच्छेद में लेखक का मुख्य निष्कर्ष है :

Options :

91394382257. विमानपत्तनों के निजी स्वामित्व का आशय कुशल प्रबंधन नहीं है।

91394382258. उड़डयन उद्योग की वृद्धि विरूपित है।

91394382259. उड़डयन उद्योग की वृद्धि में विमानपत्तन अवरोधक नहीं हैं।

91394382260. सरकारी स्वामित्व वाले विमानपत्तनों को उनके उच्च कार्यनिष्पादन हेतु जाना जाता है।

Sub-Section Number: 3
Sub-Section Id: 9139431105
Question Shuffling Allowed : Yes

Question Number : 16 Question Id : 91394320939 Question Type : MCQ Option Shuffling : Yes Display Question Number : Yes
Single Line Question Option : No Option Orientation : Vertical

Correct Marks : 2 Wrong Marks : 0

Signs are considered as secondary products of :

Options :

91394382261. Message

91394382262. Channelisation

91394382263. Semantic accuracy

91394382264. Infotainment

Question Number : 16 Question Id : 91394320939 Question Type : MCQ Option Shuffling : Yes Display Question Number : Yes
Single Line Question Option : No Option Orientation : Vertical

Correct Marks : 2 Wrong Marks : 0

संकेत को द्वितीयक उत्पाद माना जाता है :

Options :

91394382261. संदेश का

91394382262. माध्यम निर्माण का

91394382263.

अर्थ की सटीकता का

91394382264.

सूचना और मनोरंजन का

Question Number : 17 Question Id : 91394320940 Question Type : MCQ Option Shuffling : Yes Display Question Number : Yes
Single Line Question Option : No Option Orientation : Vertical

Correct Marks : 2 Wrong Marks : 0

The relational approach in classroom communication comes from :

Options :

91394382265.

Intra-personal communication

91394382266.

Inter-personal communication

91394382267.

Organisational communication

91394382268.

Mass communication

Question Number : 17 Question Id : 91394320940 Question Type : MCQ Option Shuffling : Yes Display Question Number : Yes
Single Line Question Option : No Option Orientation : Vertical

Correct Marks : 2 Wrong Marks : 0

कक्षागत संप्रेषण में संबंधात्मक उपागम किससे प्राप्त होता है ?

Options :

91394382265.

अंतरा-वैयक्तिक संप्रेषण

91394382266.

अंतर-वैयक्तिक संप्रेषण

91394382267.

संगठनात्मक संप्रेषण

91394382268.

जनसंचार

Question Number : 18 Question Id : 91394320941 Question Type : MCQ Option Shuffling : Yes Display Question Number : Yes
Single Line Question Option : No Option Orientation : Vertical

Correct Marks : 2 Wrong Marks : 0

Classroom speech is considered as a :

Options :

91394382269.

Technical medium

91394382270.

Non-technical medium

91394382271. Mass medium

91394382272. Unorganised medium

Question Number : 18 Question Id : 91394320941 Question Type : MCQ Option Shuffling : Yes Display Question Number : Yes
Single Line Question Option : No Option Orientation : Vertical

Correct Marks : 2 Wrong Marks : 0

कक्षागत संभाषण को क्या माना जाता है ?

Options :

91394382269. तकनीकी माध्यम

91394382270. गैर-तकनीकी माध्यम

91394382271. जन माध्यम

91394382272. असंगठित माध्यम

Question Number : 19 Question Id : 91394320942 Question Type : MCQ Option Shuffling : Yes Display Question Number : Yes
Single Line Question Option : No Option Orientation : Vertical

Correct Marks : 2 Wrong Marks : 0

In a classroom, communication becomes effective when participants are :

- (a) Active
- (b) Empathetic
- (c) Heterophilous
- (d) Homophilous
- (e) Silent
- (f) Uncritical

Code :

Options :

91394382273. (a), (b), (c) and (d)

91394382274. (b), (c) (d) and (e)

91394382275. (a), (b), and (d)

91394382276. (c), (e) and (f)

Correct Marks : 2 Wrong Marks : 0

एक कक्षा में संप्रेषण प्रभावी होता है यदि प्रतिभागी :

- (a) सक्रिय हों
- (b) समानुभूतिपरक हों
- (c) विषमलिंगी हों
- (d) समलिंगी हों
- (e) मूक हों
- (f) सहज रूप से आत्मसात करते हों

कूट :

Options :

91394382273. (a), (b), (c) और (d)

91394382274. (b), (c), (d) और (e)

91394382275. (a), (b), और (d)

91394382276. (c), (e), और (f)

Correct Marks : 2 Wrong Marks : 0

The information seeking strategies of students are :

- (a) Entropy-oriented
- (b) Overt
- (c) Non-functional
- (d) Indirect
- (e) Third party
- (f) Testing

Code :

Options :

91394382277. (a), (b), (d) and (e)

91394382278. (b), (c), (e) and (f)

91394382279. (b), (d), (e) and (f)

91394382280. (a), (b), (c) and (f)

Question Number : 20 Question Id : 91394320943 Question Type : MCQ Option Shuffling : Yes Display Question Number : Yes
Single Line Question Option : No Option Orientation : Vertical

Correct Marks : 2 Wrong Marks : 0

छात्रों की सूचना ग्रहण करने की युक्तियाँ होती हैं :

(a) निर्जीवत्व-उन्मुख

(b) प्रत्यक्ष

(c) अकार्यात्मक

(d) अप्रत्यक्ष

(e) तृतीय पक्ष

(f) परीक्षण

कूट :

Options :

91394382277. (a), (b), (d) और (e)

91394382278. (b), (c), (e) और (f)

91394382279. (b), (d), (e) और (f)

91394382280. (a), (b), (c) और (f)

Question Number : 21 Question Id : 91394320944 Question Type : MCQ Option Shuffling : Yes Display Question Number : Yes
Single Line Question Option : No Option Orientation : Vertical

Correct Marks : 2 Wrong Marks : 0

If DIVE is coded as IMYG, then the code for TAKE will be :

Options :

91394382281. XFMG

91394382282. YENG

91394382283. TFMG

91394382284. XENG

Question Number : 21 Question Id : 91394320944 Question Type : MCQ Option Shuffling : Yes Display Question Number : Yes
Single Line Question Option : No Option Orientation : Vertical

Correct Marks : 2 Wrong Marks : 0

यदि DIVE को IMYG के रूप में कूटबद्ध किया जाता है तो TAKE का कूट होगा :

Options :

91394382281. XFMG

91394382282. YENG

91394382283. TFMG

91394382284. XENG

Question Number : 22 Question Id : 91394320945 Question Type : MCQ Option Shuffling : Yes Display Question Number : Yes
Single Line Question Option : No Option Orientation : Vertical

Correct Marks : 2 Wrong Marks : 0

The next term in the series is :

56, 40, 27, 17, 10, _____

Options :

91394382285. 6

91394382286. 7

91394382287. 8

91394382288. 5

Question Number : 22 Question Id : 91394320945 Question Type : MCQ Option Shuffling : Yes Display Question Number : Yes
Single Line Question Option : No Option Orientation : Vertical

Correct Marks : 2 Wrong Marks : 0

इस श्रृंखला को पूरा कीजिए :

56, 40, 27, 17, 10, _____

Options :

91394382285. 6

91394382286. 7

91394382287. 8

91394382288. 5

Question Number : 23 Question Id : 91394320946 Question Type : MCQ Option Shuffling : Yes Display Question Number : Yes
Single Line Question Option : No Option Orientation : Vertical

Correct Marks : 2 Wrong Marks : 0

The next term in the letter series is :

ME, KH, IK, GN, _____ is :

Options :

91394382289. EQ

91394382290. CK

91394382291. BD

91394382292. DF

Question Number : 23 Question Id : 91394320946 Question Type : MCQ Option Shuffling : Yes Display Question Number : Yes
Single Line Question Option : No Option Orientation : Vertical

Correct Marks : 2 Wrong Marks : 0

वर्ण श्रृंखला को पूरा कीजिए :

ME, KH, IK, GN, _____

Options :

91394382289. EQ

91394382290. CK

91394382291. BD

91394382292. DF

Question Number : 24 Question Id : 91394320947 Question Type : MCQ Option Shuffling : Yes Display Question Number : Yes
Single Line Question Option : No Option Orientation : Vertical

Correct Marks : 2 Wrong Marks : 0

Choose the word which is different from the rest.

Options :

91394382293. Eyes

91394382294. Nose

91394382295. Legs

91394382296. Hands

Question Number : 24 Question Id : 91394320947 Question Type : MCQ Option Shuffling : Yes Display Question Number : Yes
Single Line Question Option : No Option Orientation : Vertical

Correct Marks : 2 Wrong Marks : 0

निम्नलिखित में से बेमेल शब्द चुनिए :

Options :

91394382293. आँख

91394382294. नाक

91394382295. पैर

91394382296. हाथ

Question Number : 25 Question Id : 91394320948 Question Type : MCQ Option Shuffling : Yes Display Question Number : Yes
Single Line Question Option : No Option Orientation : Vertical

Correct Marks : 2 Wrong Marks : 0

Ram said, "I am the only child of my mother". Next he pointed to a boy and continued, "This boy is the husband of the grandchild of my mother".

How is Ram related to the boy ?

Options :

91394382297. Father

91394382298. Grandfather

91394382299. Brother-in-law

91394382300. Father-in-law

Question Number : 25 Question Id : 91394320948 Question Type : MCQ Option Shuffling : Yes Display Question Number : Yes
Single Line Question Option : No Option Orientation : Vertical

Correct Marks : 2 Wrong Marks : 0

राम ने कहा, “मैं अपनी माँ का अकेला बालक हूँ” उसके बाद उसने एक लड़के की ओर इशारा करते हुए कहा, “यह लड़का मेरी माँ के पौत्र का पति है।”

राम का उस लड़के से क्या संबंध है?

Options :

91394382297. पिता

91394382298. दादा

91394382299. ब्रदर-इन-लॉ

91394382300. फादर-इन-लॉ

Question Number : 26 Question Id : 91394320949 Question Type : MCQ Option Shuffling : Yes Display Question Number : Yes
Single Line Question Option : No Option Orientation : Vertical

Correct Marks : 2 Wrong Marks : 0

Given below are two premises (a) and (b).

Four conclusions are drawn from them. Select the code that states validly drawn conclusion(s) [taking the premises individually or jointly].

Premises : (a) Some women are teachers.
(b) All teachers are hard-working.

Conclusions :

- (i) All hard-working people are teachers.
- (ii) All teachers are not women.
- (iii) Some hard-working teachers are women.
- (iv) Some women are hard-working.

Code :

Options :

91394382301. (i) and (ii)

91394382302. (ii) and (iii)

91394382303. (i) and (iv)

91394382304. (iii) and (iv)

Question Number : 26 Question Id : 91394320949 Question Type : MCQ Option Shuffling : Yes Display Question Number : Yes
Single Line Question Option : No Option Orientation : Vertical

Correct Marks : 2 Wrong Marks : 0

नीचे दो आधार-वाक्य दिए गए हैं (a) और (b)।

इनमें से चार निष्कर्ष उद्धृत किए गए हैं। उस कूट को चुनिए जिसे निष्कर्ष (षीं) से उचित रूप में उल्लेख किया गया है [आधार-वाक्य को एकल रूप में या संयुक्त रूप से लेते हुए]।

आधार वाक्य : (a) कुछ महिलाएँ शिक्षक हैं।

(b) सभी शिक्षक मेहनती हैं।

निष्कर्ष : (i) सभी मेहनती लोग शिक्षक हैं।

(ii) सभी शिक्षक महिलाएँ नहीं हैं।

(iii) कुछ मेहनती शिक्षक महिलाएँ हैं।

(iv) कुछ महिलाएं मेहनती हैं।

कूट :

Options :

91394382301. (i) और (ii)

91394382302. (ii) और (iii)

91394382303. (i) और (iv)

91394382304. (iii) और (iv)

Question Number : 27 Question Id : 91394320950 Question Type : MCQ Option Shuffling : Yes Display Question Number : Yes
Single Line Question Option : No Option Orientation : Vertical

Correct Marks : 2 Wrong Marks : 0

In which of the following arguments the conclusion can be no more than probable ?

Options :

91394382305. Implicative

91394382306. Analogical

91394382307. Deductive

91394382308. Demonstrative

Question Number : 27 Question Id : 91394320950 Question Type : MCQ Option Shuffling : Yes Display Question Number : Yes
Single Line Question Option : No Option Orientation : Vertical

Correct Marks : 2 Wrong Marks : 0

निम्नलिखित में से किस तर्क में निष्कर्ष संभाव्य से अधिक नहीं हो सकता है?

Options :

आशययुक्त

91394382305.

सादृश्यपूर्ण

91394382306.

निगमनात्मक

91394382307.

प्रदर्शनात्मक

91394382308.

Question Number : 28 Question Id : 91394320951 Question Type : MCQ Option Shuffling : Yes Display Question Number : Yes
Single Line Question Option : No Option Orientation : Vertical

Correct Marks : 2 Wrong Marks : 0

“To slow a beast, you break its limbs.

To slow a nation, you break its people.”

- Identify the argument involved in the above :

Options :

Inductive

91394382309.

Deductive

91394382310.

Analogical

91394382311.

Demonstrative

91394382312.

Question Number : 28 Question Id : 91394320951 Question Type : MCQ Option Shuffling : Yes Display Question Number : Yes
Single Line Question Option : No Option Orientation : Vertical

Correct Marks : 2 Wrong Marks : 0

“किसी जंगली पशु की गति मद्धिम करने के लिए आप इसके अंगों को तोड़ते हैं।

किसी राष्ट्र की प्रगति रोकने के लिए आप वहाँ के लोगों में दरार उत्पन्न करते हैं।”

उपर्युक्त में सन्निहित तर्क पहचानिए :

Options :

आगमनात्मक

91394382309.

निगमनात्मक

91394382310.

सादृश्यात्मक

91394382311.

प्रदर्शनात्मक

91394382312.

Question Number : 29 Question Id : 91394320952 Question Type : MCQ Option Shuffling : Yes Display Question Number : Yes
Single Line Question Option : No Option Orientation : Vertical

Correct Marks : 2 Wrong Marks : 0

“The relation that exists between Premises and Conclusion is that of logical necessity” - is the case with which of the following arguments ?

Options :

Inductive

91394382313.

Deductive

91394382314.

Demonstrative

91394382315.

Analogical

91394382316.

Question Number : 29 Question Id : 91394320952 Question Type : MCQ Option Shuffling : Yes Display Question Number : Yes
Single Line Question Option : No Option Orientation : Vertical

Correct Marks : 2 Wrong Marks : 0

“आधारवाक्य और निष्कर्ष के मध्य विद्यमान संबंध तार्किक आवश्यकता है - यह मामला निम्नलिखित में से किस तर्क में होता है ?

Options :

आगमनात्मक

91394382313.

निगमनात्मक

91394382314.

प्रदर्शनात्मक

91394382315.

सादृश्यात्मक

91394382316.

Question Number : 30 Question Id : 91394320953 Question Type : MCQ Option Shuffling : Yes Display Question Number : Yes
Single Line Question Option : No Option Orientation : Vertical

Correct Marks : 2 Wrong Marks : 0

Among the following statements, two are contradictory to each other. Select the code that represents them.

- Statements :
- (a) All surgeons are doctors.
 - (b) Some surgeons are doctors.
 - (c) Some surgeons are not doctors.
 - (d) No surgeons are doctors.

Code :

Options :

91394382317. (a) and (b)

91394382318. (a) and (d)

91394382319. (b) and (d)

91394382320. (b) and (c)

Question Number : 30 Question Id : 91394320953 Question Type : MCQ Option Shuffling : Yes Display Question Number : Yes
Single Line Question Option : No Option Orientation : Vertical

Correct Marks : 2 Wrong Marks : 0

निम्नलिखित कथनों में दो कथन एक दूसरे के परस्पर विरोधी हैं। इन्हें निरूपित करने वाला कूट चुनिए :

- कथन :
- (a) सभी शल्यचिकित्सक चिकित्सक हैं।
 - (b) कुछ शल्यचिकित्सक चिकित्सक हैं।
 - (c) कुछ शल्यचिकित्सक चिकित्सक नहीं हैं।
 - (d) कोई शल्यचिकित्सक चिकित्सक नहीं हैं।

कूट :

Options :

91394382317. (a) और (b)

91394382318. (a) और (d)

91394382319. (b) और (d)

91394382320. (b) और (c)

Sub-Section Number: 4
Sub-Section Id: 9139431106
Question Shuffling Allowed : Yes

Question Id : 91394320954 Question Type : COMPREHENSION Sub Question Shuffling Allowed : Yes Group Comprehension
Questions : No

Question Numbers : (31 to 33)

Question Label : Comprehension

	Monday		Tuesday		Wednesday	
Cab	Time (Hours)	Distance (kms)	Time (Hours)	Distance (kms)	Time (Hours)	Distance (kms)
A	16	656	12	480	10	410
B	10	700	14	490	18	720
C	11	770	13	650	16	640
D	12	744	15	825	14	840
E	14	826	14	728	12	840

The table given above gives the number of kilometers travelled and the number of hours taken by five cabs A, B, C, D, and E. Data on three days is given - Monday, Tuesday and Wednesday.

Use the above data to answer the questions given below.

Sub questions

Question Number : 31 Question Id : 91394320955 Question Type : MCQ Option Shuffling : Yes Display Question Number : Yes Single Line Question Option : No Option Orientation : Vertical

Correct Marks : 2 Wrong Marks : 0

The average speed of cab A for the three days taken together is approximately :

Options :

91394382321. 10 km/hr

91394382322. 20 km/hr

91394382323. 30 km/hr

91394382324. 40 km/hr

Question Number : 32 Question Id : 91394320956 Question Type : MCQ Option Shuffling : Yes Display Question Number : Yes Single Line Question Option : No Option Orientation : Vertical

Correct Marks : 2 Wrong Marks : 0

The difference between the average speed of cab C and cab E on Monday is :

Options :

91394382325. 11 kms/hr

91394382326. 21 kms/hr

91394382327. 31 kms/hr

91394382328. 41 kms/hr

Question Number : 33 Question Id : 91394320957 Question Type : MCQ Option Shuffling : Yes Display Question Number : Yes Single Line Question Option : No Option Orientation : Vertical

Correct Marks : 2 Wrong Marks : 0

Which cab travelled the most in the three days taken together ?

Options :

91394382329. B

91394382330. C

91394382331. D

91394382332. E

Question Id : 91394320954 Question Type : COMPREHENSION Sub Question Shuffling Allowed : Yes Group Comprehension Questions : No

Question Numbers : (31 to 33)

Question Label : Comprehension

कैब	सोमवार		मंगलवार		बुधवार	
	समय (घंटों में)	दूरी (कि.मी. में)	समय (घंटों में)	दूरी (कि.मी. में)	समय (घंटों में)	दूरी (कि.मी. में)
A	16	656	12	480	10	410
B	10	700	14	490	18	720
C	11	770	13	650	16	640
D	12	744	15	825	14	840
E	14	826	14	728	12	840

उपर्युक्त तालिका में यात्रा के किलोमीटर और कैब A, B, C, D, और E द्वारा सोमवार, मंगलवार और बुधवार को तय किए गए घंटों की संख्या है।

उपर्युक्त आँकड़ों का उपयोग करते हुए नीचे दिए गए प्रश्नों के उत्तर दीजिए।

Sub questions

Question Number : 31 Question Id : 91394320955 Question Type : MCQ Option Shuffling : Yes Display Question Number : Yes Single Line Question Option : No Option Orientation : Vertical

Correct Marks : 2 Wrong Marks : 0

कुल मिलाकर कैब 'A' की तीन दिनों की औसत गति लगभग _____ है।

Options :

91394382321. 10 किलोमीटर प्रति घंटा

91394382322. 20 किलोमीटर प्रति घंटा

91394382323. 30 किलोमीटर प्रति घंटा

91394382324. 40 किलोमीटर प्रति घंटा

Question Number : 32 Question Id : 91394320956 Question Type : MCQ Option Shuffling : Yes Display Question Number : Yes
Single Line Question Option : No Option Orientation : Vertical
Correct Marks : 2 Wrong Marks : 0

सोमवार को कैब C और कैब E की औसत गति में कितना अंतर है?

Options :

91394382325. 11 किलोमीटर प्रति घंटा

91394382326. 21 किलोमीटर प्रति घंटा

91394382327. 31 किलोमीटर प्रति घंटा

91394382328. 41 किलोमीटर प्रति घंटा

Question Number : 33 Question Id : 91394320957 Question Type : MCQ Option Shuffling : Yes Display Question Number : Yes
Single Line Question Option : No Option Orientation : Vertical
Correct Marks : 2 Wrong Marks : 0

तीन दिनों में किस कैब द्वारा सर्वाधिक दूरी तय की गई?

Options :

91394382329. B

91394382330. C

91394382331. D

91394382332. E

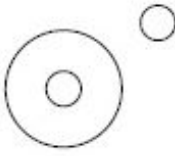
Sub-Section Number: 5
Sub-Section Id: 9139431107
Question Shuffling Allowed : Yes

Question Number : 34 Question Id : 91394320958 Question Type : MCQ Option Shuffling : Yes Display Question Number : Yes
Single Line Question Option : No Option Orientation : Vertical
Correct Marks : 2 Wrong Marks : 0

Which of the following diagrams indicates the best relation between India, World and New Delhi ?

Options :

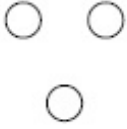
91394382333.



91394382334.



91394382335.



91394382336.



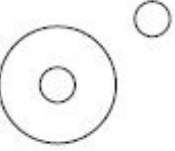
Question Number : 34 Question Id : 91394320958 Question Type : MCQ Option Shuffling : Yes Display Question Number : Yes Single Line Question Option : No Option Orientation : Vertical

Correct Marks : 2 Wrong Marks : 0

निम्नलिखित में से किस रेखाचित्र में भारत, विश्व और नई दिल्ली के बीच सर्वोत्तम संबंध को निरूपित किया गया है ?

Options :

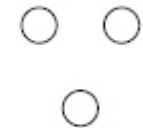
91394382333.



91394382334.



91394382335.



91394382336.

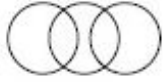


Question Number : 35 Question Id : 91394320959 Question Type : MCQ Option Shuffling : Yes Display Question Number : Yes Single Line Question Option : No Option Orientation : Vertical

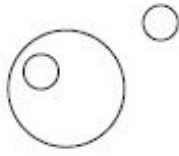
Correct Marks : 2 Wrong Marks : 0

Which of the following diagrams best represents the relationship between, family, family member and domestic help ?

Options :



91394382337.



91394382338.



91394382339.




91394382340.

Question Number : 35 Question Id : 91394320959 Question Type : MCQ Option Shuffling : Yes Display Question Number : Yes
Single Line Question Option : No Option Orientation : Vertical

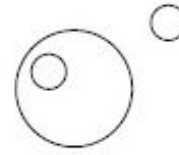
Correct Marks : 2 Wrong Marks : 0

निम्नलिखित में से किस रेखाचित्र में परिवार, परिजन और घरेलू नौकर/नौकरानी के बीच संबंध को सर्वोत्तम रूप में निरूपित किया गया है?

Options :



91394382337.



91394382338.



91394382339.



91394382340.

Question Number : 36 Question Id : 91394320960 Question Type : MCQ Option Shuffling : Yes Display Question Number : Yes
Single Line Question Option : No Option Orientation : Vertical

Correct Marks : 2 Wrong Marks : 0

Which one of the following is **not** a Network Topology ?

Options :

91394382341. Ring

91394382342. Chain

91394382343. Bus

91394382344. Star

Question Number : 36 Question Id : 91394320960 Question Type : MCQ Option Shuffling : Yes Display Question Number : Yes
Single Line Question Option : No Option Orientation : Vertical

Correct Marks : 2 Wrong Marks : 0

निम्नलिखित में से कौन-सा नेटवर्क सांस्थिति (टोपोलोजी) नहीं है?

Options :

91394382341. रिंग

91394382342. चेन

91394382343. बस

91394382344. स्टार

Question Number : 37 Question Id : 91394320961 Question Type : MCQ Option Shuffling : Yes Display Question Number : Yes
Single Line Question Option : No Option Orientation : Vertical

Correct Marks : 2 Wrong Marks : 0

Match the following :

List - I

- (a) Browser
- (b) Programming Language
- (c) Operating System
- (d) E-mail

List - II

- (i) Outlook
- (ii) DOS
- (iii) Internet Explorer
- (iv) Fortran

The correct code is :

(a) (b) (c) (d)

Options :

91394382345. (i) (iii) (ii) (iv)

91394382346. (iii) (iv) (ii) (i)

91394382347. (ii) (iii) (iv) (i)

91394382348. (iv) (iii) (ii) (i)

Question Number : 37 Question Id : 91394320961 Question Type : MCQ Option Shuffling : Yes Display Question Number : Yes
Single Line Question Option : No Option Orientation : Vertical

Correct Marks : 2 Wrong Marks : 0

निम्नलिखित का मिलान करें :

सूची - I

सूची - II

(a) ब्राउजर

(i) आउटलुक

(b) प्रोग्रामिंग लैंगुएज

(ii) डॉस

(c) आपरेटिंग सिस्टम

(iii) इंटरनेट एक्सप्लोरर

(d) ई-मेल

(iv) फोरट्रान

सही कूट है :

(a) (b) (c) (d)

Options :

91394382345. (i) (iii) (ii) (iv)

91394382346. (iii) (iv) (ii) (i)

91394382347. (ii) (iii) (iv) (i)

91394382348. (iv) (iii) (ii) (i)

Question Number : 38 Question Id : 91394320962 Question Type : MCQ Option Shuffling : Yes Display Question Number : Yes
Single Line Question Option : No Option Orientation : Vertical

Correct Marks : 2 Wrong Marks : 0

Which of the following denotes the Internet hardware requirements ?

- (a) Hub
- (b) Bridge
- (c) Router
- (d) Gateway
- (e) Modem

Code :

Options :

91394382349. (e) only

91394382350. (a), (b) and (e)

91394382351. (b), (c), (d) and (e)

91394382352. (a), (b), (c), (d) and (e)

Question Number : 38 Question Id : 91394320962 Question Type : MCQ Option Shuffling : Yes Display Question Number : Yes
Single Line Question Option : No Option Orientation : Vertical

Correct Marks : 2 Wrong Marks : 0

निम्नलिखित में से कौन-सा इंटरनेट हार्डवेयर आवश्यकताओं को दर्शाता है?

- (a) हब
- (b) ब्रिज
- (c) राउटर
- (d) गेटवे
- (e) मोडम

कूट :

Options :

91394382349. केवल (e)

91394382350. (a), (b) और (e)

(b), (c), (d) और (e)

91394382351.

(a), (b), (c), (d) और (e)

91394382352.

Question Number : 39 Question Id : 91394320963 Question Type : MCQ Option Shuffling : Yes Display Question Number : Yes
Single Line Question Option : No Option Orientation : Vertical

Correct Marks : 2 Wrong Marks : 0

A set of rules used in communications in a network is called :

Options :

Interface

91394382353.

Protocol

91394382354.

Address

91394382355.

Reference

91394382356.

Question Number : 39 Question Id : 91394320963 Question Type : MCQ Option Shuffling : Yes Display Question Number : Yes
Single Line Question Option : No Option Orientation : Vertical

Correct Marks : 2 Wrong Marks : 0

एक नेटवर्क के संप्रेषण में प्रयुक्त नियमों के समुच्चय को कहा जाता है :

Options :

इंटरफेस

91394382353.

प्रोटोकॉल

91394382354.

एड्रेस

91394382355.

रेफरेंस

91394382356.

Question Number : 40 Question Id : 91394320964 Question Type : MCQ Option Shuffling : Yes Display Question Number : Yes
Single Line Question Option : No Option Orientation : Vertical

Correct Marks : 2 Wrong Marks : 0

Which of the following are pointing devices ?

(a) Trackball

(b) Touchscreen

(c) Graphic Tablet

(d) Joystick

Code :

Options :

91394382357. (a) only

91394382358. (a) and (d)

91394382359. (a), (b) and (d)

91394382360. (a), (b), (c) and (d)

Question Number : 40 Question Id : 91394320964 Question Type : MCQ Option Shuffling : Yes Display Question Number : Yes
Single Line Question Option : No Option Orientation : Vertical

Correct Marks : 2 Wrong Marks : 0

निम्नलिखित में से कौन-से प्वाइंटिंग उपकरण है ?

(a) ट्रैकबॉल

(b) टचस्क्रीन

(c) ग्राफिक टैबलेट

(d) जॉयस्टिक

कूट :

Options :

91394382357. केवल (a)

91394382358. (a) और (d)

91394382359. (a), (b) और (d)

91394382360. (a), (b), (c) और (d)

Question Number : 41 Question Id : 91394320965 Question Type : MCQ Option Shuffling : Yes Display Question Number : Yes
Single Line Question Option : No Option Orientation : Vertical

Correct Marks : 2 Wrong Marks : 0

A study was carried out on the drought resilience in India. Which of the following States show highest level of handling drought ?

Options :

91394382361. Telangana, Andhra Pradesh, Tamil Nadu

91394382362. Odisha, Karnataka, Kerala

91394382363. Sikkim, Punjab, Arunachal Pradesh

Question Number : 41 Question Id : 91394320965 Question Type : MCQ Option Shuffling : Yes Display Question Number : Yes
Single Line Question Option : No Option Orientation : Vertical

Correct Marks : 2 Wrong Marks : 0

भारत में सूखा स्थिति स्थापन के बारे में एक अध्ययन किया गया। निम्नलिखित में से किन राज्यों में सूखा से निपटने का सर्वाधिक स्तर देखा गया है?

Options :

91394382361. तेलंगाना, आंध्र प्रदेश, तमिलनाडु

91394382362. ओडिशा, कर्नाटक, केरल

91394382363. सिक्किम, पंजाब, अरूणाचल प्रदेश

91394382364. झारखंड, छत्तीसगढ़, जम्मू और कश्मीर

Question Number : 42 Question Id : 91394320966 Question Type : MCQ Option Shuffling : Yes Display Question Number : Yes
Single Line Question Option : No Option Orientation : Vertical

Correct Marks : 2 Wrong Marks : 0

The most harmful types of environmental pollutants are :

Options :

91394382365. Human organic wastes

91394382366. Wastes from faecal matter

91394382367. Non-biodegradable chemicals

91394382368. Natural nutrients present in excess

Question Number : 42 Question Id : 91394320966 Question Type : MCQ Option Shuffling : Yes Display Question Number : Yes
Single Line Question Option : No Option Orientation : Vertical

Correct Marks : 2 Wrong Marks : 0

सर्वाधिक हानिकारक पर्यावरणीय प्रदूषक है :

Options :

91394382365. मानव जैव अपवर्ज्य

91394382366. विष्ठा जन्य अपवर्ज्य

गैर-जैवअपक्षरणीय रसायन

91394382367.

प्राकृतिक पोषक तत्वों का आधिक्य

91394382368.

Question Number : 43 Question Id : 91394320967 Question Type : MCQ Option Shuffling : Yes Display Question Number : Yes
Single Line Question Option : No Option Orientation : Vertical

Correct Marks : 2 Wrong Marks : 0

Assertion (A) : Natural gas is a very attractive eco-friendly fuel.

Reason (R) : It produces few pollutants and less carbon dioxide per unit energy than any other fossil fuel on combustion.

Code :

Options :

91394382369. Both (A) and (R) are true and (R) is the correct explanation of (A).

91394382370. Both (A) and (R) are true and (R) is not the correct explanation of (A).

91394382371. (A) is true, but (R) is false.

91394382372. (A) is false, but (R) is true.

Question Number : 43 Question Id : 91394320967 Question Type : MCQ Option Shuffling : Yes Display Question Number : Yes
Single Line Question Option : No Option Orientation : Vertical

Correct Marks : 2 Wrong Marks : 0

अभिकथन (A) : प्राकृतिक गैस बहुत आकर्षक पर्यावरण-सुलभ ईंधन है।

कारण (R) : इसके दहन के पश्चात किसी अन्य जीवाश्म ईंधन की अपेक्षा कम प्रदूषक तत्व और प्रति यूनिट ऊर्जा में कम कार्बन डायऑक्साइड उत्पन्न होता है।

कूट :

Options :

91394382369. (A) और (R) दोनों सही हैं और (R), (A) की सही व्याख्या है।

91394382370. (A) और (R) दोनों सही हैं और (R), (A) की सही व्याख्या नहीं है।

91394382371. (A) सही है, किन्तु (R) गलत है।

91394382372. (A) गलत है, किन्तु (R) सही है।

Question Number : 44 Question Id : 91394320968 Question Type : MCQ Option Shuffling : Yes Display Question Number : Yes
Single Line Question Option : No Option Orientation : Vertical

Correct Marks : 2 Wrong Marks : 0

What percentage of energy coming from the Sun is re-radiated towards the space ?

Options :

91394382373. 15%

91394382374. 25%

91394382375. 30%

91394382376. 50%

Question Number : 44 Question Id : 91394320968 Question Type : MCQ Option Shuffling : Yes Display Question Number : Yes
Single Line Question Option : No Option Orientation : Vertical

Correct Marks : 2 Wrong Marks : 0

सूर्य से उद्भूत ऊर्जा का कितना प्रतिशत अंतरिक्ष में पुनःविकिरित होता है ?

Options :

91394382373. 15%

91394382374. 25%

91394382375. 30%

91394382376. 50%

Question Number : 45 Question Id : 91394320969 Question Type : MCQ Option Shuffling : Yes Display Question Number : Yes
Single Line Question Option : No Option Orientation : Vertical

Correct Marks : 2 Wrong Marks : 0

As per Central Forestry Commission (CFC), how many forest types are found in our country ?

Options :

91394382377. 15

91394382378. 20

91394382379. 28

91394382380. 16

Question Number : 45 Question Id : 91394320969 Question Type : MCQ Option Shuffling : Yes Display Question Number : Yes
Single Line Question Option : No Option Orientation : Vertical

Correct Marks : 2 Wrong Marks : 0

केन्द्रीय वानिकी आयोग (सी.एफ.सी.) के अनुसार हमारे देश में कितने प्रकार के वन पाए जाते हैं ?

Options :

91394382377. 15

91394382378. 20

91394382379. 28

91394382380. 16

Question Number : 46 Question Id : 91394320970 Question Type : MCQ Option Shuffling : Yes Display Question Number : Yes
Single Line Question Option : No Option Orientation : Vertical

Correct Marks : 2 Wrong Marks : 0

The number of open universities and directorates of distance education whose courses are recognised by UGC as on August 9, 2018, is :

Options :

91394382381. 49

91394382382. 53

91394382383. 58

91394382384. 62

Question Number : 46 Question Id : 91394320970 Question Type : MCQ Option Shuffling : Yes Display Question Number : Yes
Single Line Question Option : No Option Orientation : Vertical

Correct Marks : 2 Wrong Marks : 0

9 अगस्त, 2018 की स्थिति के अनुसार यू.जी.सी. द्वारा मान्यता प्राप्त दूरस्थ शिक्षा निदेशालयों और मुक्त विश्वविद्यालयों की संख्या है :

Options :

91394382381. 49

91394382382. 53

91394382383. 58

91394382384. 62

Question Number : 47 Question Id : 91394320971 Question Type : MCQ Option Shuffling : Yes Display Question Number : Yes
Single Line Question Option : No Option Orientation : Vertical

Correct Marks : 2 Wrong Marks : 0

Match the following :

List - I

- (a) Open University
- (b) Dual Mode University
- (c) Mixed Mode University
- (d) Deemed University
- (e) Specialised University

List - II

- (i) Odisha State Open University, Odisha
- (ii) Amity University
- (iii) Indian Institute of Science, Bengaluru
- (iv) University of Mumbai, Mumbai
- (v) School of Planning and Architecture, New Delhi

Code :

(a) (b) (c) (d) (e)

Options :

91394382385. (iii) (ii) (v) (i) (iv)

91394382386. (i) (iv) (ii) (iii) (v)

91394382387. (v) (i) (iv) (ii) (iii)

91394382388. (ii) (iii) (i) (iv) (v)

Question Number : 47 Question Id : 91394320971 Question Type : MCQ Option Shuffling : Yes Display Question Number : Yes
Single Line Question Option : No Option Orientation : Vertical

Correct Marks : 2 Wrong Marks : 0

निम्नांकित को सुमेलित करें :

सूची - I

- (a) मुक्त विश्वविद्यालय
- (b) द्वैत स्वरूप विश्वविद्यालय
- (c) मिश्रित स्वरूप विश्वविद्यालय
- (d) मानित विश्वविद्यालय
- (e) विशेषज्ञता प्राप्त विश्वविद्यालय

सूची - II

- (i) ओडिशा राज्य मुक्त विश्वविद्यालय, ओडिशा
- (ii) एमिटी विश्वविद्यालय
- (iii) भारतीय विज्ञान संस्थान, बेंगलुरु
- (iv) मुंबई विश्वविद्यालय, मुंबई
- (v) नियोजन एवं वास्तुकला विद्यालय, नई दिल्ली

कूट :

(a) (b) (c) (d) (e)

Options :

91394382385. (iii) (ii) (v) (i) (iv)

91394382386. (i) (iv) (ii) (iii) (v)

91394382387. (v) (i) (iv) (ii) (iii)

91394382388. (ii) (iii) (i) (iv) (v)

Question Number : 48 Question Id : 91394320972 Question Type : MCQ Option Shuffling : Yes Display Question Number : Yes
Single Line Question Option : No Option Orientation : Vertical

Correct Marks : 2 Wrong Marks : 0

Which private institutions in the following list have been granted the status of 'Institutes of Eminence' by the MHRD ?

- (i) BITS, Pilani
- (ii) MAHE, Manipal
- (iii) Symbiosis, Pune
- (iv) Amity University, Noida

Choose the correct answer from the code given below :

Code :

Options :

91394382389. (i) and (ii)

91394382390. (i) and (iii)

91394382391. (ii) and (iii)

91394382392. (ii) and (iv)

Question Number : 48 Question Id : 91394320972 Question Type : MCQ Option Shuffling : Yes Display Question Number : Yes
Single Line Question Option : No Option Orientation : Vertical

Correct Marks : 2 Wrong Marks : 0

एम.एच.आर.डी. द्वारा निम्नलिखित सूची में कौन-सी प्राइवेट संस्था को 'इन्सिटिट्यूट ऑफ एमिनेंस' स्टेटस की स्वीकृति दी गई है ?

- (i) बीट्स (बी.आई.टी.एस.), पिलानी
- (ii) एम.ए.एच.ई., मणिपाल
- (iii) सिम्बायोसिस, पुणे
- (iv) एमिटी यूनिवर्सिटी, नोएडा

नीचे दिए गए कूट में से सही उत्तर को चुनिए :

कूट :

Options :

91394382389. (i) एवं (ii)

91394382390. (i) एवं (iii)

91394382391. (ii) एवं (iii)

91394382392. (ii) एवं (iv)

Question Number : 49 Question Id : 91394320973 Question Type : MCQ Option Shuffling : Yes Display Question Number : Yes
Single Line Question Option : No Option Orientation : Vertical

Correct Marks : 2 Wrong Marks : 0

One of the first states to establish a higher education council was :

Options :

91394382393. Sikkim

91394382394. Goa

91394382395. Andhra Pradesh

91394382396. Jammu and Kashmir

Question Number : 49 Question Id : 91394320973 Question Type : MCQ Option Shuffling : Yes Display Question Number : Yes
Single Line Question Option : No Option Orientation : Vertical

Correct Marks : 2 Wrong Marks : 0

उच्चतर शिक्षा परिषद की स्थापना करने वाले पहले राज्यों में से एक है :

Options :

91394382393. सिक्किम

91394382394. गोवा

91394382395. आंध्र प्रदेश

91394382396. जम्मू और कश्मीर

Question Number : 50 Question Id : 91394320974 Question Type : MCQ Option Shuffling : Yes Display Question Number : Yes
Single Line Question Option : No Option Orientation : Vertical

Correct Marks : 2 Wrong Marks : 0

State higher education councils are established under the instruction of :

Options :

91394382397. NITI Ayog

91394382398. RUSA

91394382399. CABE

91394382400. PUSA

Question Number : 50 Question Id : 91394320974 Question Type : MCQ Option Shuffling : Yes Display Question Number : Yes
Single Line Question Option : No Option Orientation : Vertical

Correct Marks : 2 Wrong Marks : 0

राज्य उच्चतर शिक्षा परिषद की स्थापना किसके अनुदेश के अन्तर्गत होती है?

Options :

91394382397. नीति आयोग

91394382398. रुसा

91394382399. सी.ए.बी.ई.

91394382400. पूसा

Paper II

Group Number :	2
Group Id :	913943276
Group Maximum Duration :	120
Group Minimum Duration :	120
Revisit allowed for view? :	No
Revisit allowed for edit? :	No
Break time:	0
Group Marks:	200

46 Adult Education

Section Id :	913943276
Section Number :	1
Section type :	Online
Mandatory or Optional:	Mandatory
Number of Questions:	92
Number of Questions to be attempted:	92
Section Marks:	200
Display Number Panel:	Yes
Group All Questions:	No